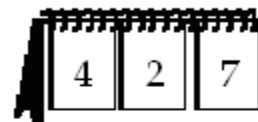


Défi 2
Numération
BLOC B

Nom : _____



Je regroupe en dizaines et en centaines.



Je lis et j'écris les nombres jusqu'à 999.



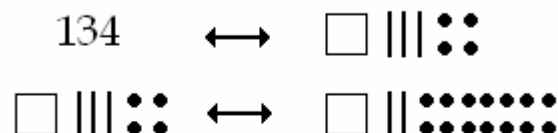
Je compose ou décompose un nombre en unités, dizaines et centaines.

Défi 2
Numération
BLOC C

Nom : _____



Je représente un nombre avec du matériel varié.



Je compte sans erreurs.



Je modifie la représentation d'un nombre sans changer sa valeur.

Défi 2
Géométrie
BLOC B


Nom : _____



J'associe la ligne numérique à des instruments de mesure.



J'utilise les unités de mesure m, dm, cm, h, min, sec, °C.



Je mesure des longueurs.
Je lis l'heure et la température.






J'explique la façon dont une règle est graduée.

Défi 2
Logique
BLOC A
(suite)

Nom : _____



J'interprète les données d'un problème.

			
Kim			
Kateri			
Kevin			



J'utilise un tableau de vérité.



Je résous des énigmes logiques et je vérifie mes solutions.